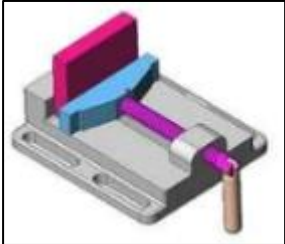


الاستاذة: جواهر البوغانمي		فرض مراقبة في مادة التكنولوجيا 2-د	المدرسة الإعدادية ماطر
العدد الممنوع	المدة: 30 دق		التاريخ: .../02/2024
..... 20	القسم: 8أ...	الاسم واللقب: الرقم:	

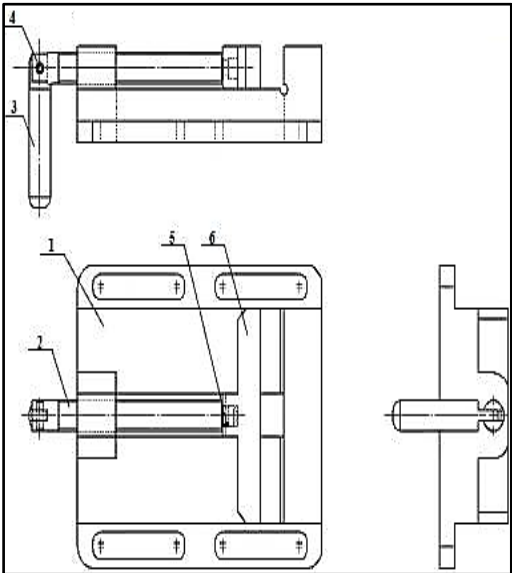
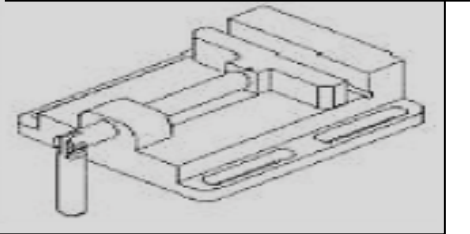
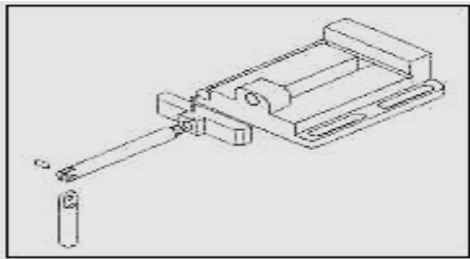
ملزمة آلة الثقب



التالية:

وظيفة المنتج: يستعمل المنتج التقني في تثبيت القطع على آلة الثقب.

1- تعرف على أنواع الرسوم



6	فك متحرك	الفولاذ
5	متريك	الفولاذ
4	محور	الفولاذ
3	ذراع التشغيل	الفولاذ
2	برغي التشغيل	الفولاذ
1	فك ثابت	الزهر
الرقم	التسمية	المادة

0

.....

.....

2- اعتمادا على الرسم الثلاثي الأبعاد للفكّ متحرك (6) ضع علامة "X" في المكان الخانة المناسبة:

...../1

أ - شكل القطعة:



اسطوانية	موشورية

ب- الجزئيات المصنوعة على الفكّ متحرك (6) :

شطف	مجرى	ثقب	انحسار	حزة

ج - نوع التخديش المادة الفكّ متحرك (6) :

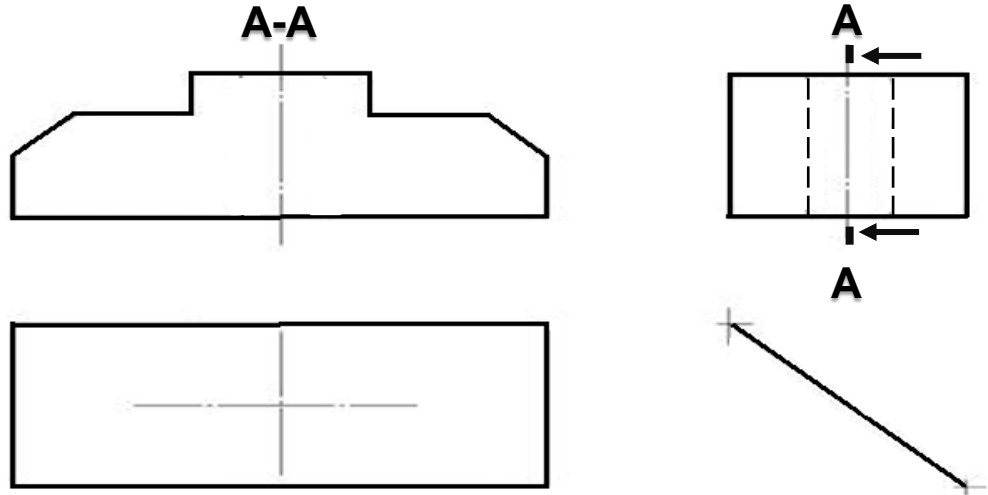
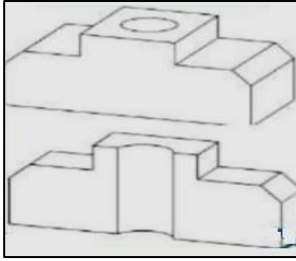
...../1.5

...../0.5

الرسم التعريفي للفاك متحرك (6)

أ - أكمل المسقط اليساري
ب - أتمم المسقط العلوي.

ج - أكمل رسم المسقط الرأسي وفقا للقطاع البسيط A-A.



4- اعتمادا على الرسم الثلاثي الأبعاد للمحور (4) ضع علامة "X" في المكان الخانة المناسبة:

أ - شكل القطعة:

اسطوانية	موشورية

ب - الجزئيات المصنوعة على المحور (4):

شطف	مجرى	ثقب	انحسار	حزة

5- أكمل رسم المسقط اليميني للمحور (4):

